

1 Detectives de mapas

Contesta las preguntas y completa el mapa.



- Indica en el mapa 1: Imperio romano de Occidente y Imperio romano de Oriente.
- ¿Quién dividió el Imperio?
- Escribe en el mapa 2 el pueblo que se asentó en esa parte de la Península: Suevos, Alanos y Vándalos.
- Responde con 1 frase: ¿qué hecho marcó el paso de Edad Antigua a Edad Media?

2 Personajes importantes

Une cada personaje con lo que hizo. Piensa y relaciona.

- | | |
|-------------------|--|
| Teodosio ● | ● Fue vencido en la batalla de Guadalete en 711. |
| Un jefe germano ● | ● Se proclamó califa en 929. |
| Abderramán I ● | ● Dividió el Imperio en dos en el año 395. |
| Abderramán III ● | ● Gobernó desde 976 y saqueó reinos cristianos del norte. |
| Almanzor ● | ● Se proclamó emir independiente en 756. |
| Rodrigo ● | ● Destronó al último emperador romano de Occidente en 476. |
| Agila ● | ● Pidió ayuda a los musulmanes del norte de África. |

3 El "tendedor" de fechas

Completa el ejercicio según el banco de fechas que tienes debajo.

- 711 1031 929 476 632 1212 409 395 416 1492 756

- Ordena correctamente (de la más antigua a la más reciente) en cada uno de los calendarios.



- Ahora elige 4 fechas y escribe qué pasó (1 frase cada una):

▶ Fecha: →

▶ Fecha: →

▶ Fecha: →

▶ Fecha: →

4 Dos ciudades, dos mundos

Observa las imágenes de "Ciudad de al-Ándalus" y "Ciudad cristiana". Luego completa con el banco de palabras (puedes repetir las si las necesitas).

mezquita

alcázar

plaza

catedral

murallas


ayuntamiento

talleres

zoco

comercio

Ciudad de al-Ándalus



- ▶ Se protegía con
- ▶ En el centro estaba el mercado llamado
- ▶ El gobernador residía en el
- ▶ Un edificio religioso importante era la

Ciudad cristiana



- ▶ Se protegía con
- ▶ En la se vendían productos y pasaban cosas importantes.
- ▶ El edificio que más destaca normalmente es la
- ▶ Escribe 2 lugares/elementos que aparecen en la ilustración



5 Arte "a ojo": Románico o Gótico

Fíjate en las pistas y clasifica.

Pistas

Románico: muros muy gruesos, pocas ventanas, interior oscuro, arcos de media circunferencia.

Gótico: catedrales más elevadas, muros menos gruesos, arcos apuntados, rosetones y vidrieras.



Descripción	Románico	Gótico
Muros muy gruesos	<input type="checkbox"/>	<input type="checkbox"/>
Rosetón	<input type="checkbox"/>	<input type="checkbox"/>
Arco apuntado	<input type="checkbox"/>	<input type="checkbox"/>
Pocas ventanas	<input type="checkbox"/>	<input type="checkbox"/>
Vidrieras de colores	<input type="checkbox"/>	<input type="checkbox"/>
Arco de media circunferencia	<input type="checkbox"/>	<input type="checkbox"/>

- Y ahora: escribe 2 diferencias entre Románico y Gótico (con tus palabras):

▶

▶

6 Sociedad en al-Ándalus

Completa quién era quién. Usa: musulmanes, muladíes, mozárabes, judíos.

- Grupo con más poder; ocupaban cargos de gobierno y tenían las mejores tierras:

- Cristianos que se convirtieron al islam:

- Cristianos que mantuvieron su religión en al-Ándalus:

- Minoría que vivía en barrios separados llamados juderías:

7 La vida en una ciudad cristiana y los gremios

Responde escribiendo de forma clara:

- Explica por qué crecieron las ciudades a partir del siglo XII:

- Escribe dos características de las ciudades medievales (murallas, calles, puertas...):

- ▶
- ▶

- ¿Qué eran los burgos y cómo se llamaba a sus habitantes?

- ¿Qué era el concejo y con qué se relaciona hoy?

- Completa sobre los gremios:

gremios **maestros** **oficiales** **aprendices**

- ▶ Los artesanos y artesanas del mismo oficio se agrupaban en

- ▶ Las tres categorías eran: , y .

8 El avance de los reinos cristianos y la repoblación

Responde con frases claras, como si se lo explicarás a un compañero.

- Explica qué era la repoblación y para qué servía:

- Escribe los cuatro reinos cristianos que se consolidaron a lo largo del siglo XIII:

- ▶ ▶
- ▶ ▶